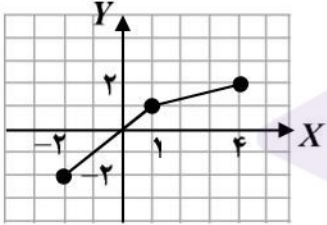


نام و نام خانوادگی:	تاریخ امتحان: ۱۳۹۹/۰۴/۰۱	تعداد صفحه: ۲	سؤالات امتحان نهایی درس: حسابان ۲
مدت امتحان: ۱۲۰ دقیقه	ساعت شروع: ۸ صبح	رشته: ریاضی و فیزیک	پایه دوازدهم دوره دوم متوسطه
مرکز سنجش و پایش کیفیت آموزشی http://ace.medu.ir		دانش آموزان روزانه سراسر کشور در نوبت خرداد ماه سال ۱۳۹۹	

ردیف	استفاده از ماشین حساب ساده دارای چهار عمل اصلی مجاز می باشد. (سؤالات پاسخ نامه دارد)	نمره
------	--	------

الف) بخش الزامی

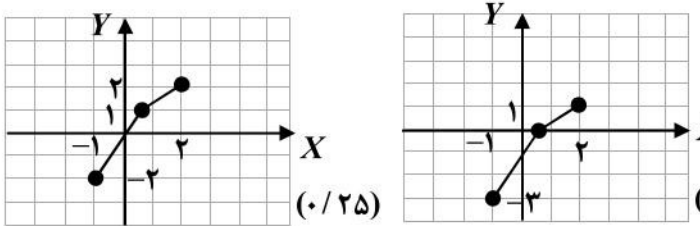
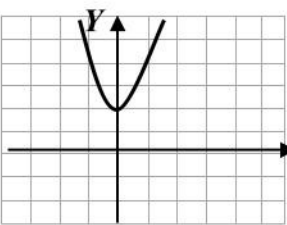
دانش آموز عزیز به سوالات ۱ تا ۱۲ (جهت کسب ۱۶ نمره) پاسخ دهید.

۱	درستی یا نادرستی عبارات زیر را مشخص کنید. الف) نمودار تابع $y = x^3$ در بازه $[0, 1]$ پایین تر از نمودار تابع $y = x^2$ قرار دارد. ب) اگر تابع $f(x)$ در یک فاصله صعودی باشد، آنگاه اکیدا صعودی نیز خواهد بود. پ) اگر تابع f در $x = a$ پیوسته نباشد آنگاه f در a مشتق پذیر هم نیست. ت) تابعی وجود ندارد که برای آن هم $f'(a) = 0$ و هم $f(a) = 0$	۱
۱	در جاهای خالی کلمه یا عبارت مناسب را بنویسید. الف) دوره تناوب تابع $y = 8 \cos(\frac{x}{3})$ برابر با است. ب) اگر $f'(1) = 3$ و $g'(1) = 5$ ، در این صورت $(3f + 2g)'(1)$ برابر با است.	۲
۱	با توجه به نمودار تابع f که در شکل زیر آمده است، نمودار تابع $g(x) = f(2x) - 1$ را رسم کرده و دامنه و برد آن را تعیین کنید.	۳
۱		
۱	نمودار تابع $f(x) = x^2 + 2$ را رسم کرده و مشخص کنید در چه بازه ای اکیدا نزولی است؟	۴
۱	مقادیر a, b را طوری تعیین کنید که چند جمله ای $x^3 + ax^2 + bx + 1$ بر $x - 2$ و $x + 1$ بخش پذیر باشد.	۵
۱	مقدار ماکزیمم و مینیمم تابع $y = 1 + 2 \sin 7x$ را به دست آورید.	۶
۱/۵	معادله $2 \sin 3x - \sqrt{2} = 0$ را حل کنید.	۷
۲	حدود زیر را محاسبه کنید. الف) $\lim_{x \rightarrow e^-} \frac{x^2 + x}{x^2}$ ب) $\lim_{x \rightarrow \pm\infty} \frac{2x^2 - x + 1}{4x^3 + 2x - 1}$	۸
«ادامه سوالات در صفحه دوم»		

نام و نام خانوادگی:	تاریخ امتحان: ۱۳۹۹/۰۴/۰۱	تعداد صفحه: ۲	سوالات امتحان نهایی درس: حسابان ۲
مدت امتحان: ۱۲۰ دقیقه	ساعت شروع: ۸ صبح	رشته: ریاضی و فیزیک	پایه دوازدهم دوره دوم متوسطه
مرکز سنجش و پایش کیفیت آموزشی http://ace.medu.ir		دانش آموزان روزانه سراسر کشور در نوبت خرداد ماه سال ۱۳۹۹	
نمره	استفاده از ماشین حساب ساده دارای چهار عمل اصلی مجاز می باشد. (سوالات پاسخ نامه دارد)		
۰/۵	نمودار تابع f را به گونه ای رسم کنید که همه شرایط زیر را دارا باشد. الف) $f(1) = f(-2) = 0$ ب) $\lim_{x \rightarrow 3^+} f(x) = +\infty$, $\lim_{x \rightarrow 3^-} f(x) = -\infty$ پ) خط $y = -1$ مجانب افقی آن باشد.		
۱/۵	معادله خط مماس بر منحنی تابع $f(x) = -x^2 + 10x$ را در نقطه $A(2, f(2))$ واقع بر نمودار تابع بنویسید.		
۳	مشتق توابع زیر را به دست آورید. (ساده کردن مشتق الزامی نیست) الف) $f(x) = \frac{x^2 - 3x + 1}{-3x + 2}$ ب) $g(x) = \sqrt{x}(3x^2 + 5)$ پ) $h(x) = \sin^2 x + \cos^2 x$		
۱/۵	معادله حرکت متحرکی به صورت $f(t) = t^2 - t + 10$ بر حسب متر در بازه زمانی $[0, 5]$ داده شده است. در کدام لحظه در این بازه، سرعت لحظه ای با سرعت متوسط با هم برابرند؟		
ب) بخش انتخابی دانش آموز عزیز جهت کسب ۴ نمره، از بین سوالات ۱۳ تا ۱۶ فقط ۲ سوال را به دلخواه انتخاب و پاسخ دهید.			
۲	مجانب های قائم و افقی نمودار تابع $y = \frac{x}{x^2 - 4}$ را در صورت وجود به دست آورید.		
۲	مشتق پذیری تابع $f(x) = x^2 - 1 $ را در $x = 1$ بررسی کنید.		
۲	جهت تقعر و نقطه عطف تابع $f(x) = x^3 + 3x^2 + 1$ را مشخص کنید.		
۲	جدول تغییرات و نمودار تابع $f(x) = \frac{x-1}{x+1}$ را رسم کنید.		
۲۴	موفق و سربلند باشید. جمع نمره		

مدت امتحان: ۱۲۰ دقیقه	تعداد صفحه: ۳	رشته: ریاضی فیزیک	راهنمای تصحیح درس: حسابان ۲
تاریخ امتحان: ۱۳۹۹ / ۰۴ / ۰۱		پایه دوازدهم دوره دوم متوسطه	
مرکز سنجش و پایش کیفیت آموزشی http://aee.medu.ir		دانش آموزان روزانه سراسر کشور در خرداد ماه سال ۱۳۹۹	

نمره	راهنمای تصحیح	ردیف
------	---------------	------

۱	هر مورد (۰/۲۵) نمره	ت نادرست	پ درست	ب نادرست	الف درست	۱
۱	هر مورد (۰/۵) نمره	مثال صفحه ۲۷	ب (۱۹)	مثال صفحه ۲۷	الف (۶π)	۲
۱		(۰/۲۵)	(۰/۲۵)	$D_g = [-1, 2] \quad (۰/۲۵)$ $R_g = [-3, 1] \quad (۰/۲۵)$		۳
						مشابه تمرین ۲ صفحه ۱۲
۱		(۰/۵)		اکیدا نزولی (۰/۲۵) $(-\infty, 0)$ اکیدا صعودی (۰/۲۵) $(0, +\infty)$		۴
						مشابه کار در کلاس صفحه ۱۷
۱	$x - 2 = 0 \rightarrow x = 2 \rightarrow p(2) = 0 \rightarrow 4a + 2b = -9 \quad (۰/۲۵)$ $x + 1 = 0 \rightarrow x = -1 \rightarrow p(-1) = 0 \rightarrow a - b = 0 \quad (۰/۲۵)$ $a = -\frac{3}{2} \quad (۰/۲۵), b = -\frac{3}{2} \quad (۰/۲۵)$					۵
						تمرین صفحه ۲۲
۱	$\begin{cases} \max y = a + c = 2 + 1 = 3 & (۰/۵) \\ \min y = - a + c = -2 + 1 = -1 & (۰/۵) \end{cases}$					۶
						تمرین صفحه ۳۳
۱/۵	$\sin 3x = \frac{\sqrt{2}}{2} = \sin \frac{\pi}{4} \quad (۰/۵) \Rightarrow \begin{cases} 3x = 2k\pi + \frac{\pi}{4} & (۰/۵) \\ 3x = 2k\pi + \pi - \frac{\pi}{4} & (۰/۵) \end{cases} \Rightarrow \begin{cases} x = \frac{2k\pi}{3} + \frac{\pi}{12} \\ x = \frac{2k\pi}{3} + \frac{\pi}{4} \end{cases} \quad (k \in \mathbb{Z}) \quad (۰/۵)$					۷
						مثال ص ۳۹
۲	الف) $\lim_{x \rightarrow 0^+} \frac{x(x+1)}{x^2} \quad (۰/۵) = \lim_{x \rightarrow 0^+} \frac{(x+1)}{x} = \frac{1}{0^+} = +\infty \quad (۰/۵)$ ب) $\lim_{x \rightarrow \pm\infty} \frac{2x^2}{4x^2} \quad (۰/۵) = \lim_{x \rightarrow \pm\infty} \frac{1}{2x} = 0 \quad (۰/۵)$					۸
						کار در کلاس صفحه ۵۵
						کار در کلاس صفحه ۶۶

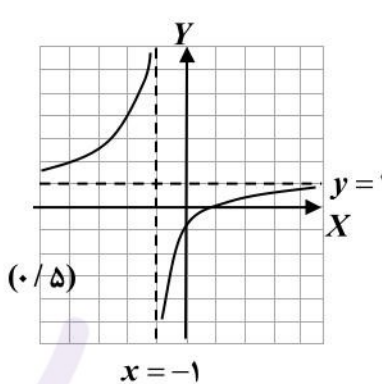
مدت امتحان: ۱۲۰ دقیقه	تعداد صفحه: ۳	رشته: ریاضی فیزیک	راهنمای تصحیح درس: حسابان ۲
تاریخ امتحان: ۱۳۹۹ / ۰۴ / ۰۱		پایه دوازدهم دوره دوم متوسطه	
مرکز سنجش و پایش کیفیت آموزشی http://aee.medu.ir		دانش آموزان روزانه سراسر کشور در خرداد ماه سال ۱۳۹۹	

نمره	راهنمای تصحیح	ردیف
۰/۵	تمرین صفحه ۶۹	۹
۱/۵	$f'(x) = -2x + 10$ (۰/۲۵) , $f'(2) = 6$ (۰/۲۵) , $f(2) = 16$ (۰/۲۵) $y - 16 = 6(x - 2)$ (۰/۵) $\Rightarrow y = 6x + 4$ (۰/۲۵)	مثال صفحه ۷۸
۳	الف) $f'(x) = \frac{\overbrace{(2x-3)(-3x+2) - (-3)(x^2-3x+1)}^{(۰/۷۵)}}{\underbrace{(-3x+2)^2}_{(۰/۲۵)}}$ ب) $g'(x) = \frac{1}{2\sqrt{x}}(3x^2+5) + \sqrt{x}(6x)$ (۰/۵) پ) $h'(x) = 3 \times \underbrace{\sin^2 x \times \cos x}_{(۰/۵)} + 2 \cos x \times \underbrace{(-\sin x)}_{(۰/۵)}$	تمرین صفحه ۱۰۱ کار در کلاس صفحه ۹۵ تمرین صفحه ۱۰۱
۱/۵	$f(5) = 30$, $f(0) = 10 \Rightarrow \frac{f(5) - f(0)}{5 - 0} = 4$ (۰/۷۵) $f'(t) = 2t - 1 = 4 \Rightarrow t = \frac{5}{2}$ (۰/۷۵)	تمرین صفحه ۱۰۹
۲	$\lim_{x \rightarrow \pm\infty} \frac{x}{x^2} = \lim_{x \rightarrow \pm\infty} \frac{1}{x} = 0$ (۰/۵) $\Rightarrow y = 0$ (۰/۵) $x^2 - 4 = 0$ (۰/۵) $\Rightarrow x = \pm 2$ (۰/۵)	تمرین صفحه ۶۹ مجانب افقی مجانب های قائم
۲	$f'_+(1) = \lim_{x \rightarrow 1^+} \frac{ x^2 - 1 - 0}{x - 1} = \lim_{x \rightarrow 1^+} \frac{(x-1)(x+1)}{x-1} = 2$ (۰/۷۵) $f'_-(1) = \lim_{x \rightarrow 1^-} \frac{ x^2 - 1 - 0}{x - 1} = \lim_{x \rightarrow 1^-} \frac{-(x-1)(x+1)}{x-1} = -2$ (۰/۷۵) $f'_-(1) \neq f'_+(1)$ (۰/۵) پس تابع مشتق پذیر نمی باشد	مثال صفحه ۸۶

مدت امتحان: ۱۲۰ دقیقه	تعداد صفحه: ۳	رشته: ریاضی فیزیک	راهنمای تصحیح درس: حسابان ۲
تاریخ امتحان: ۱۳۹۹ / ۰۴ / ۰۱		پایه دوازدهم دوره دوم متوسطه	
مرکز سنجش و پایش کیفیت آموزشی http://aee.medu.ir		دانش آموزان روزانه سراسر کشور در خرداد ماه سال ۱۳۹۹	

نمره	راهنمای تصحیح	ردیف
------	---------------	------

۲	<p>نقطه عطف $(-1, 3)$ $(0/25)$ $\Rightarrow f''(x) = 6x + 6 = 0$ $(0/5)$ $\Rightarrow x = -1$</p> <table border="1"> <tr> <td>x</td> <td>$-\infty$</td> <td>-1</td> <td>$+\infty$</td> </tr> <tr> <td>f''</td> <td>$-$</td> <td>0</td> <td>$+$</td> </tr> </table> <p>مثال صفحه ۱۲۹</p> <p>تقعر رو به بالا $(-1, +\infty)$ $(0/25)$ تقعر رو به پایین $(-\infty, -1)$ $(0/25)$</p>	x	$-\infty$	-1	$+\infty$	f''	$-$	0	$+$	۱۵
x	$-\infty$	-1	$+\infty$							
f''	$-$	0	$+$							

۲	<p>$x = -1$ م. قائم $(0/25)$ $y = 1$ م. افقی $(0/25)$ $y' = \frac{2}{(x+1)^2} > 0$ $(0/5)$</p> <table border="1"> <tr> <td>x</td> <td>$-\infty$</td> <td>-1</td> <td>$+\infty$</td> </tr> <tr> <td>f'</td> <td>$+$</td> <td>$+$</td> <td>$+$</td> </tr> </table> <p>مشابه مثال صفحه ۱۴۲</p> 	x	$-\infty$	-1	$+\infty$	f'	$+$	$+$	$+$	۱۶
x	$-\infty$	-1	$+\infty$							
f'	$+$	$+$	$+$							

۲۴	جمع نمره	« همکاران گرامی لطفا به راه حل های صحیح دیگر به تناسب نمره دهید . »
----	----------	---